



ST. JOSEPH PUBLIC SCHOOL

Kota Barrage Road, Kota-6 (Raj.)

C.B.S.E. New Delhi, **GEOGRAPHY**

GUESS PAPER

Class: **XII**

2025-26

Time: **3 HRS**

MM: 70

General Instructions:

Read the following instructions carefully and follow them:

- This question paper contains 30 questions. All questions are compulsory.
- Question paper is divided into five sections A, B, C, D and E.
- Section A question no. 1 to 17 are multiple choice type questions. Each question carries 1 marks.
- Section B question no. 18 to 19 is source based questions. Each question carries 3 marks.
- Section C question no. 20 to 23 is Short answer type questions. Each question carries 3 marks. Answers of these questions shall be written in 80 to 100 words.
- Section D question no. 24 to 28 are long answer type questions. Each question carries 5 marks. Answers of these questions shall be written in 120 to 150 words.
- Section E question no. 29 to 30 are Map based questions. Each question carries 5 marks.

SECTION A

1	<p>Mining and industrial activities generate employment and attract skilled, semi-skilled and non-skilled workers to move to this area which cause dense population. From which of the following example is a best suited for the above statement-</p> <p>a) Hwngho Plain b) Zaire-Katanga c) Irrawaddy Plain d) Ganga plain</p>	1
2	<p>Study the given graph and answer the question given below</p> <p>What does the transition from high fluctuating stage to low fluctuating stage indicate?</p> <p>a) Shift from Urban Industrial Economy to rural agrarian economy</p> <p>b) Shift from Rural agrarian economy to Urban Industrial Economy</p>	1

	c) Low birth and death rate to high birth and death rate d) Migration from Urban to rural areas									
3	A famous scholar had given some thought on population growth and food supply, in which he told” The no. of people would increase faster than the food supply”. This statement is given by whom? a) Amartya Sen b) Thomas Malthus c) Ralph Watson d) Ratzel	1								
4	Read the following important aspect of human development carefully and choose the correct option: i. leading a long life ii. people access to knowledge iii. leading a life with high income iv. people access to resource option: a) only i, ii, and iii are correct. b) only i, ii, and iv are correct. c) only i, iii, and iv are correct. d) only ii, iii, and iv are correct.	1								
5	Following columns are related to human development. Which column is matched correctly? <table><tr><td>a) Income Approach:</td><td>Human development is linked with industrial growth.</td></tr><tr><td>b) Welfare Approach:</td><td>It is the oldest approach.</td></tr><tr><td>c) Basic Need Approach:</td><td>Human choices are ignored and emphasis on the provision of basic needs.</td></tr><tr><td>d) Capability Approach:</td><td>It was introduced by Dr. Mehboob ul Haq</td></tr></table>	a) Income Approach:	Human development is linked with industrial growth.	b) Welfare Approach:	It is the oldest approach.	c) Basic Need Approach:	Human choices are ignored and emphasis on the provision of basic needs.	d) Capability Approach:	It was introduced by Dr. Mehboob ul Haq	1
a) Income Approach:	Human development is linked with industrial growth.									
b) Welfare Approach:	It is the oldest approach.									
c) Basic Need Approach:	Human choices are ignored and emphasis on the provision of basic needs.									
d) Capability Approach:	It was introduced by Dr. Mehboob ul Haq									
6	Which one out of following statement is not true? a) Outsourcing reduces cost and increases the efficiency b) At Times engineering and manufacturing jobs can also be outsourced c) BPOs have better business opportunities as compare to KPOs d) There may be dissatisfaction among the job seekers in the countries that outsource the job.	1								
7	Choose the correct option to fill the blanks. The act of opening up economies for trading is known as..... a) balance of trade b) Unilateral trade c) free trade d) bilateral trade	1								
8	Two statement are given below. They are assertion (A) and Reason (R). Read both the statement carefully and choose the correct option. - Assertion(A) World Trade organization is widening the gulf between the rich and the poor by making rich countries Reacher Reason (R) The influential nations in WTO focuses on their own commercial interests. Options: a) Both (A) and (R) correct and the (R) is a correct explanation of (A). b) Both (A) and (R) correct and the (R) is not a correct explanation of (A). c) (A) is correct and (B) is incorrect. d) (A) is incorrect and (B)is correct.	1								
9	Assertion (A): The decades 1921-1951 are referred to as the period of steady population growth. Reason (R): Improvement in health and sanitation brought down the mortality rate. a) Both A and R are true and R is the correct explanation of A b) Both A and R are true, but R is not the correct explanation of A	1								

	c) A is true, but R is false d) A is false, but R is true																
10	Which one of the following is not a challenge of adolescence population faced by society? a) High marriage age c) Low female literacy b) Drug abuse and alcoholism d) Dropout from school	1															
11	Read the following features and are identify the crops • It is a tropical plantation crop. • Karnataka alone accounts for more than two third of its Total production in India. • it is grown in the highland on the Western Ghats in Karnataka and Kerala. Crop: a) Sugarcane b) Tea c) Cotton d) Coffee	1															
12	Which among them is correctly matched? <table><tr><td>SN</td><td>Group</td><td>Crops</td></tr><tr><td>1</td><td>Plantation</td><td>Tea, Coffee, Sugar Cane</td></tr><tr><td>2</td><td>Oil seeds</td><td>Rapeseed, Mustard, Ragi</td></tr><tr><td>3</td><td>Pulses</td><td>Gram, Tur, Masoor, Ground Nut</td></tr><tr><td>4</td><td>Fiber</td><td>Jute, Cotton</td></tr></table> Options: a) 1 & 2 b) 1&4 c) 2&4 d) 3 & 4	SN	Group	Crops	1	Plantation	Tea, Coffee, Sugar Cane	2	Oil seeds	Rapeseed, Mustard, Ragi	3	Pulses	Gram, Tur, Masoor, Ground Nut	4	Fiber	Jute, Cotton	1
SN	Group	Crops															
1	Plantation	Tea, Coffee, Sugar Cane															
2	Oil seeds	Rapeseed, Mustard, Ragi															
3	Pulses	Gram, Tur, Masoor, Ground Nut															
4	Fiber	Jute, Cotton															
13	In a region facing severe water scarcity, the implementation of rainwater harvesting systems has significantly improved water availability. Which principle of the NWP (NATIONAL WATER POLICY) 2012 does this practice align with? a) Integrated water resources management c) Integrated water & Participatory approach. b) Water as an economic good. d) Prioritization of water uses	1															
14	Which of the following pair is incorrectly marched? <table><tr><td>Name of the state</td><td>Coal mining centre</td></tr><tr><td>a) Telangana</td><td>Singareni</td></tr><tr><td>b) Maharashtra</td><td>Korba</td></tr><tr><td>c) Odisha</td><td>Talcher</td></tr><tr><td>d) West Bengal</td><td>Raniganj</td></tr></table>	Name of the state	Coal mining centre	a) Telangana	Singareni	b) Maharashtra	Korba	c) Odisha	Talcher	d) West Bengal	Raniganj	1					
Name of the state	Coal mining centre																
a) Telangana	Singareni																
b) Maharashtra	Korba																
c) Odisha	Talcher																
d) West Bengal	Raniganj																
15	Two statement are given below. They are assertion (A) and Reason (R). Read both the statement carefully and choose the correct option. - Assertion(A) agriculture rich states of Punjab, Haryana, and Western UP facing the crisis of groundwater depletion. Reason (R) More groundwater is utilized for irrigation. Options: a) Both (A) and (R) correct and the (R) is a correct explanation of (A). b) Both (A) and (R) correct and the (R) is not a correct explanation of (A). c) (A) is correct and (B) is incorrect. d) (A) is incorrect and (B) is correct																
16	The road between the Chandigarh and Manali was the constructed by which following? a) Border Road Organization c) National Highway Authority of India b) Central Public Works Deptt. d) State Public Works Deptt.	1															
17	Consider the following and match List I with List II and choose the correct Answer with the help of given codes.	1															

	<table><tr><td>List I</td><td>List II</td></tr><tr><td>Railway Zone</td><td>Headquarters</td></tr><tr><td>I. Central</td><td>1. Chennai</td></tr><tr><td>II. Eastern</td><td>2. Mumbai CST</td></tr><tr><td>III. Southern</td><td>3. New Delhi</td></tr><tr><td>IV. Northern</td><td>4. Kolkata</td></tr></table> <p>Codes:</p> <table><tr><td></td><td>I</td><td>II</td><td>III</td><td>IV</td></tr><tr><td>a)</td><td>4</td><td>1</td><td>3</td><td>2</td></tr><tr><td>b)</td><td>2</td><td>4</td><td>1</td><td>3</td></tr><tr><td>c)</td><td>1</td><td>3</td><td>4</td><td>2</td></tr><tr><td>d)</td><td>1</td><td>2</td><td>3</td><td>4</td></tr></table>	List I	List II	Railway Zone	Headquarters	I. Central	1. Chennai	II. Eastern	2. Mumbai CST	III. Southern	3. New Delhi	IV. Northern	4. Kolkata		I	II	III	IV	a)	4	1	3	2	b)	2	4	1	3	c)	1	3	4	2	d)	1	2	3	4	
List I	List II																																						
Railway Zone	Headquarters																																						
I. Central	1. Chennai																																						
II. Eastern	2. Mumbai CST																																						
III. Southern	3. New Delhi																																						
IV. Northern	4. Kolkata																																						
	I	II	III	IV																																			
a)	4	1	3	2																																			
b)	2	4	1	3																																			
c)	1	3	4	2																																			
d)	1	2	3	4																																			
	<p style="text-align: center;"><u>SECTION B</u></p>																																						
18	<p>Read the following case study and answer question no 18.1 to 18.3.</p> <p>Benda lives in the wilds of the AbujhMaad area of central India. His village consists of three huts deep in the wilds. Not even birds or stray dogs that usually crowd villages can be seen in these areas. Wearing a small loin cloth and armed with his axe he slowly surveys the penda (forest) where his tribe practices a primitive form of agriculture called shifting cultivation. Benda and his friends burn small patches of forest to clear them for cultivation. The ash is used for making the soil fertile. Benda is happy that the Mahua trees around him are in bloom. How lucky I am to be a part of this beautiful universe, he thinks as he looks up to see the Mahua, Palash and Sal trees that have sheltered him since childhood. Crossing the penda in a gliding motion, Benda makes his way to a stream. As he bends down to scoop up a palmful of water, he remembers to thank Loi-Lugi, the spirit of the forest for allowing him to quench his thirst. Moving on with his friends, Benda chews on succulent leaves and roots. The boys have been trying to collect Gajjhara and Kuchla, from the forest. These are special plants that Benda and his people use. He hopes the spirits of the forest will be kind and lead him to these herbs. These are needed to barter in the madhai or tribal fair coming up the next full moon. He closes his eyes and tries hard to recall what the elders had taught him about these herbs and the places they are found in. He wishes he had listened more carefully. Suddenly there is a rustling of leaves. Benda and his friends know it is the outsiders who have come searching for them in the wilds. In a single fluid motion Benda and his friends disappear behind the thick canopy of trees and become one with the spirit of the forest.</p> <p>18.1 Benda practices which of the following type of agriculture? a) Mixed farming b) Shifting cultivation c) Extensive grain farming d) Horticulture</p> <p>18.2 The state of the society in the passage can be described by which of the following a) Neo Determinism b) Environmental Determinism c) Possibilism d) None of these</p> <p>18.3 Which of these forest products are collected by Benda for the use of his people? a) Pine b) Coconut c) Kuchla d) Ashok</p>	3																																					
19	<p>Study the following table and answer the questions:</p> <table><tr><td>Level of Human Development</td><td>Score in Development Index</td><td>Number of Countries</td></tr><tr><td>Very High</td><td>above 0.800</td><td>66</td></tr><tr><td>High</td><td>between 0.700 up to 0.799</td><td>53</td></tr></table>	Level of Human Development	Score in Development Index	Number of Countries	Very High	above 0.800	66	High	between 0.700 up to 0.799	53	3																												
Level of Human Development	Score in Development Index	Number of Countries																																					
Very High	above 0.800	66																																					
High	between 0.700 up to 0.799	53																																					

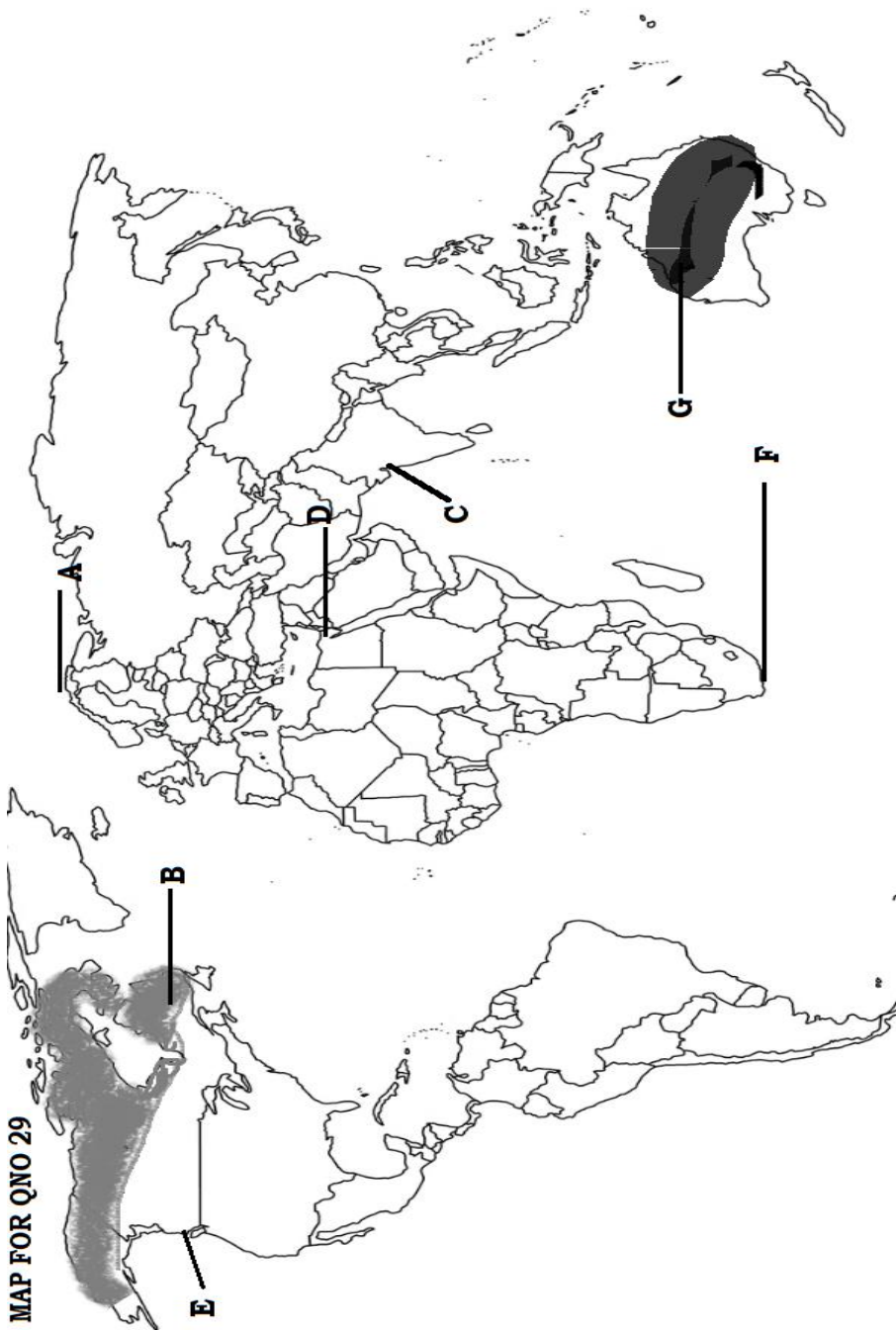
	<table border="1"> <tr> <td>Medium</td><td>between 0.550 up to 0.699</td><td>37</td></tr> <tr> <td>Low</td><td>below 0.549</td><td>33</td></tr> </table> <p>Source: Human Development Report, 2020</p> <p>(I) Identify the human development score for the countries classified as having Medium Human Development?</p> <p>(II) What can you infer about the well-being of people living in countries with a high level of human development?</p> <p>(III) Give reasons for low level of human development in 33 countries.</p>	Medium	between 0.550 up to 0.699	37	Low	below 0.549	33	
Medium	between 0.550 up to 0.699	37						
Low	below 0.549	33						
	SECTION C							
20	<p>Discuss the growth of the service sector in modern economic development.</p> <p>Or</p> <p>Tertiary activities include both production and exchange. Explain it.</p>	3						
21	<p>Observe the given map and answer the following questions:</p> <p>21.1 Name the Railway line and name the country where it lies?</p> <p>21.2 Vladivostok lies on _____ coast of this railway.</p> <p>21.3 State one reason why it is the most important route in the Asia?</p>	3						
22	"Physical characteristics of India and the distribution of population of India go hand in hand". analyze the statement.	3						
23	"Analyze how physical, cultural, economic, and historical factors influence the formation of different types of rural settlements in India."	3						

	<u>SECTION D</u>	
24	<p>Gathering and hunting are the primitive economic activities meant for the subsistence of tribal societies, but in modern times gathering is market oriented and has become commercial.’’ Examine the statement?</p> <p style="text-align: center;">OR</p> <p>Unlike nomadic herding, commercial livestock rearing is more organized and capital intensive. Justify it with suitable arguments.</p>	5
25	<p>“A country wants to boost its economy through modern manufacturing” Explain this statement in light of features of modern large-scale manufacturing.</p>	5
26	<p>Development is a multidimensional concept and signifies the positive irreversible transformation of the economy and the environment support this statement with suitable argument from India.</p> <p style="text-align: center;">OR</p> <p>Intensive irrigation, in long run, hampers the sustainability of agriculture in Indira Gandhi canal command area. Suggest some measures to eliminate the problems.</p>	5
27	<p>The land degradation due to main made process processes has greater console that the natural processes evaluate the statement with the example</p>	5
28	<p>How have the ‘National Highway Development Project’ contributed in the improvement of roadways In India?</p> <p style="text-align: center;">OR</p> <p>Explain in detail the changes that have occurred in the import structure of India's international trade.</p>	5
	<u>SECTION E</u>	
29	<p>On the given map of the world, the following seven features are shown. Identify any five of these features and write their correct names on the lines mark near each feature.</p> <p>a) Europe’s northern most sea port b) An area of subsistence gathering c) An airport port of Asia d) A Canal Connect two seas e) A Terminal station of trans Canadian railway f) An area of Extensive commercial grain farming g) An area of commercial livestock rearing</p>	5
30	<p>On the given physical map of India, locate and label any 5 of the following with appropriate symbols.</p> <p>a) An Indian State with highest population density b) A leading producer of Tea. c) An oil refinery of Bihar d) An international airport of Punjab e) A famous Coal Mine of Jharkhand f) A busiest sea port of western coast g) An oldest copper mine</p>	5
	For Visually impaired	
29	<p>The following questions are for Visually Impaired Candidates only in lieu of Question No.29. Answer any five questions out of the following:</p> <p>a) Northern Most Sea Port of Europe b) A Major area of subsistence gathering of Northern America c) A Major International airport located in Maharashtra, India, Asia.</p>	5

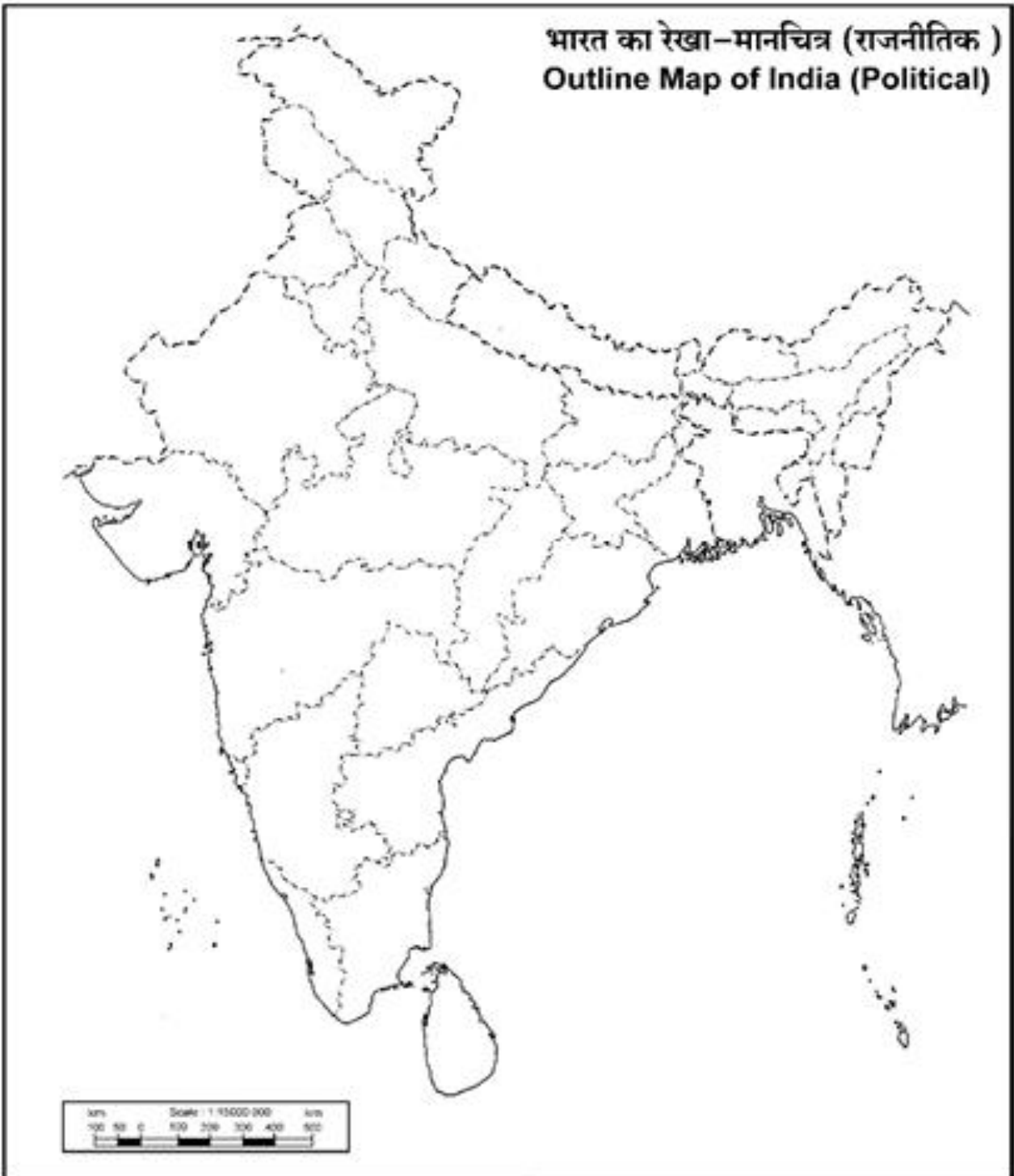
	d) A Canal Connect Red Sea and Mediterranean Sea e) A Terminal station of trans Canadian railway on pacific coast f) An area of commercial grain farming in Africa g) An area of commercial livestock rearing in smallest continent of the world	
30	The following questions are for Visually Impaired Candidates only in lieu of Question No.30. Answer any five questions out of the following: <ul style="list-style-type: none"> a) Write the name of Indian State with highest population density. b) Write the name of India state which is the leading producer of Tea. c) Write name of oil refinery in Bihar d) Write name of an international airport in Punjab e) Write the name famous and biggest Coal Mine of Jharkhand f) Write name busiest sea port of western coast g) Write oldest copper mine of Rajasthan 	5

Note: This guess paper has been prepared with the aim of helping students score good marks; however, it does not guarantee that the Board examination will contain exactly the same questions.

MAP FOR QNO 29



प्रश्न सं. 30 के लिए मानचित्र
Map for Q. No. 30



केंद्रीय विद्यालय संगठन ,लखनऊ संभाग

समय: 3 घंटे

पूर्णांक: 70

सामान्य निर्देश:

निम्न लिखित निर्देशों को ध्यानपूर्वक पढ़ें और उनका पालन करें :

- इस प्रश्नपत्र में 30 प्रश्न हैं। सभी प्रश्न अनिवार्य हैं।
- प्रश्न पत्र पांच खंडों क, ख, ग, घ और ङ में विभाजित है।
- खंड 'क' के प्रश्न संख्या 1 से 17 तक बहुविकल्पीय प्रश्न हैं। प्रत्येक प्रश्न 1 अंक का है।
- खंड 'ख' के प्रश्न संख्या 18 से 19 स्रोत आधारित प्रश्न हैं। प्रत्येक प्रश्न 3 अंक का है।
- खंड 'ग' के प्रश्न संख्या 20 से 23 लघु उत्तरीय प्रश्न हैं। प्रत्येक प्रश्न 3 अंक का है। इन प्रश्नों के उत्तर 80 से 100 शब्दों में लिखने हैं।
- खंड 'घ' के प्रश्न संख्या 24 से 28 दीर्घ उत्तरीय प्रश्न हैं। प्रत्येक प्रश्न 5 अंक का है। इन प्रश्नों के उत्तर 120 से 150 शब्दों में लिखने हैं।
- खंड ङ के प्रश्न संख्या 29 से 30 मानचित्र आधारित प्रश्न हैं। प्रत्येक प्रश्न 5 अंक का है।

खंड क

1	<p>खनन और औद्योगिक क्रियाकलाप रोजगार उत्पन्न करता है और कुशल, अर्ध कुशल एवं अकुशल श्रमिकों को आकर्षित करता है, जिससे कोई क्षेत्र घना आबाद हो जाता है। निम्नलिखित में से कौन सा उदाहरण ऊपर दिए गए कथन के लिए सबसे उपयुक्त है-</p> <p>a) ह्वांगहो मैदान b) ज़ैरे-कटांगा c) इरावदी मैदान d) गंगा मैदान</p>	1
2	<p>दिए गए ग्राफ का अध्ययन करें और नीचे दिए गए प्रश्न का उत्तर दीजिए।</p> <p>उच्च उतारचढ़ाव वाले चरण में संक्रमण क्या दर्शाता है-चढ़ाव वाले चरण से निम्न उतार-?</p>	1

	<p>a) शहरी औद्योगिक अर्थव्यवस्था से ग्रामीण कृषि अर्थव्यवस्था में परिवर्तन</p> <p>b) ग्रामीण कृषि अर्थव्यवस्था से शहरी औद्योगिक अर्थव्यवस्था में परिवर्तन</p> <p>c) निम्न जन्म और मृत्यु दर से उच्च जन्म और मृत्यु दर</p> <p>d) शहरी क्षेत्रों से ग्रामीण क्षेत्रों की ओर प्रवास</p>									
3	<p>निम्न लिखित में से किस विद्वान ने अपने सिद्धांत में कहा था की लोगों की संख्या खाद्य आपूर्ति की अपेक्षा तेजी से बढ़ेगी।</p> <p>a) अमर्त्य सेन b) थामस माल्थस c) राल्फ वॉटसन d) रिट्ज़ेल</p>	1								
4	<p>मानव विकास के निम्नलिखित महत्वपूर्ण पहलुओं को ध्यान से पढ़ें और सही विकल्प चुनें:</p> <p>i. लंबा जीवन जीना</p> <p>ii. लोगों की ज्ञान तक पहुँच</p> <p>iii. उच्च आय के साथ जीवन जीना</p> <p>iv. लोगों की संसाधनों तक पहुँच</p> <p>विकल्प:</p> <p>a) केवल i, ii, और iii सही हैं।</p> <p>b) केवल i, ii, और iv सही हैं।</p> <p>c) केवल i, iii, और iv सही हैं।</p> <p>d) केवल ii, iii, और iv सही हैं।</p>	1								
5	<p>निम्नलिखित स्तंभ मानव विकास से संबंधित हैं। कौन सा स्तंभ सही सुमेलित है?</p> <table><tr><td>a) आय दृष्टिकोण :</td><td>आय दृष्टिकोणमानव विकास औद्योगिक विकास से जुड़ा है। :</td></tr><tr><td>b) कल्याण दृष्टिकोण:</td><td>कल्याण दृष्टिकोण:</td></tr><tr><td>c) बुनियादी आवश्यकता दृष्टिकोण:</td><td>इसमें मानवीय विकल्पों की उपेक्षा की जाती है और बुनियादी आवश्यकताओं की पूर्ति पर जोर दिया जाता है।</td></tr><tr><td>d) क्षमता दृष्टिकोण:</td><td>इसे डॉ. महबूब उल हक ने प्रस्तुत किया था।</td></tr></table>	a) आय दृष्टिकोण :	आय दृष्टिकोणमानव विकास औद्योगिक विकास से जुड़ा है। :	b) कल्याण दृष्टिकोण:	कल्याण दृष्टिकोण:	c) बुनियादी आवश्यकता दृष्टिकोण:	इसमें मानवीय विकल्पों की उपेक्षा की जाती है और बुनियादी आवश्यकताओं की पूर्ति पर जोर दिया जाता है।	d) क्षमता दृष्टिकोण:	इसे डॉ. महबूब उल हक ने प्रस्तुत किया था।	1
a) आय दृष्टिकोण :	आय दृष्टिकोणमानव विकास औद्योगिक विकास से जुड़ा है। :									
b) कल्याण दृष्टिकोण:	कल्याण दृष्टिकोण:									
c) बुनियादी आवश्यकता दृष्टिकोण:	इसमें मानवीय विकल्पों की उपेक्षा की जाती है और बुनियादी आवश्यकताओं की पूर्ति पर जोर दिया जाता है।									
d) क्षमता दृष्टिकोण:	इसे डॉ. महबूब उल हक ने प्रस्तुत किया था।									
6	<p>निम्नलिखित मेंसे कौन सा कथन सही नहीं है?</p> <p>a) आउटसोर्सिंग लागत को कम करती है और दक्षता बढ़ाती है</p> <p>b) कभी-कभी इंजीनियरिंग और निर्माण कार्य भी आउटसोर्स किए जा सकते हैं</p> <p>c) बीपीओ में केपीओ की तुलना में बेहतर व्यावसायिक अवसर होते हैं</p> <p>d) उन देशों में नौकरी चाहने वालों के बीच असंतोष हो सकता है जो नौकरी को आउटसोर्स करते हैं।</p>	1								
7	<p>रिक्त स्थान भरने के लिए सही विकल्प चुनें।अर्थव्यवस्थाओं को व्यापार के लिए खोलने की क्रिया को कहा जाता है।</p> <p>a) व्यापार संतुलन</p> <p>b) एकपक्षीय व्यापार</p> <p>c) मुक्त व्यापार</p>	1								

	d) द्विपक्षीय व्यापार							
8	<p>नीचे दो कथन दिए गए हैं। ये हैं – अभिकथन (A) और कारण (R)। दोनों कथनों को ध्यानपूर्वक पढ़ें और सही विकल्प चुनें।</p> <p>अभिकथन (A)- विश्व व्यापार संगठन धनी और गरीब के बीच खाई बढ़ा रहा है, जिससे धनी देशों को और अधिक समृद्ध बनाया जा रहा है।</p> <p>कारण (R)- WTO में प्रभावशाली राष्ट्र केवल अपने व्यावसायिक हितों पर ध्यान केंद्रित करते हैं।</p> <p>विकल्प:</p> <p>a) दोनों (A) और (R) सही हैं और (R) (A) की सही व्याख्या है।</p> <p>b) दोनों (A) और (R) सही हैं और (R) (A) की सही व्याख्या नहीं है।</p> <p>c) (A) सही है और (B) गलत है।</p> <p>d) (A) गलत है और (B) सही है।</p>	1						
9	<p>कथन 'क' 1921-1951 के दशकों को स्थिर जनसंख्या वृद्धि की अवधि कहा जाता है।</p> <p>कारण 'ख' स्वास्थ्य और स्वच्छता में सुधार से मृत्यु दर में कमी आई।</p> <p>a) 'क' और 'ख' सत्य हैं और 'ख' 'क' की सही व्याख्या है।</p> <p>b) 'क' और 'ख' सच है लेकिन 'ख' 'क' की सही व्याख्या नहीं है।</p> <p>c) 'क' झूठा है लेकिन 'ख' सच है।</p> <p>d) 'क' सच है लेकिन 'ख' झूठा है।</p>	1						
10	<p>निम्नलिखित में से कौन किशोर जनसंख्या से जुड़ी सामाजिक चुनौती नहीं है?</p> <p>a) उच्च विवाह आयु</p> <p>b) नशा और शराब का प्रयोग</p> <p>c) निम्न महिला साक्षरता</p> <p>d) स्कूल से ड्रॉपआउट</p>	1						
11	<p>निम्नलिखित विशेषताओं को पढ़ें और फसलों की पहचान करें:</p> <ul style="list-style-type: none"> यह एक उष्णकटिबंधीय बागाती फसल है। केवल अकेले कर्नाटक में इसकी कुल उत्पादन का दो-तिहाई से अधिक का हिस्सा उत्पादित करता है। इसे कर्नाटक और केरल के पश्चिमी घाटों में उच्च भूमि पर उगाया जाता है। <p>फसल:</p> <p>a) गन्ना</p> <p>b) चाय</p> <p>c) कपास</p> <p>d) कॉफी</p>	1						
12	<p>इनमें से कौन सही मेल खाता है?</p> <table border="1" data-bbox="565 1780 1243 1896"> <thead> <tr> <th>क्र. सं.</th><th>समूह</th><th>फसल</th></tr> </thead> <tbody> <tr> <td>1</td><td>बागाती</td><td>चाय, कॉफी, गन्ना</td></tr> </tbody> </table>	क्र. सं.	समूह	फसल	1	बागाती	चाय, कॉफी, गन्ना	1
क्र. सं.	समूह	फसल						
1	बागाती	चाय, कॉफी, गन्ना						

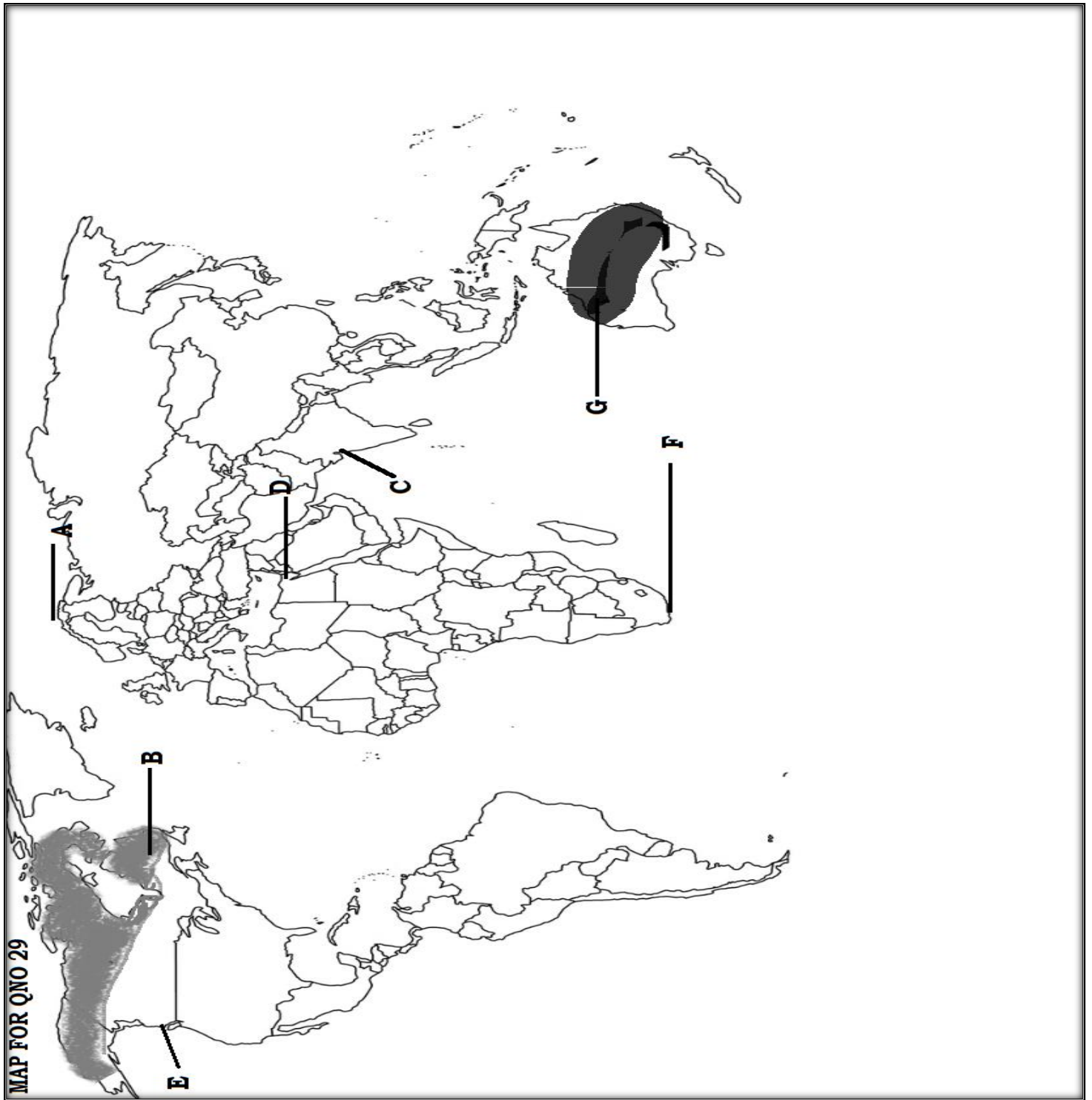
		<table><tr><td>2</td><td>तिलहन</td><td>सरसों, राई, रागी</td></tr><tr><td>3</td><td>दलहन</td><td>चना, तुअर, मसूर, मूंगफली</td></tr><tr><td>4</td><td>रेशेदार</td><td>जूट, कपास</td></tr></table>	2	तिलहन	सरसों, राई, रागी	3	दलहन	चना, तुअर, मसूर, मूंगफली	4	रेशेदार	जूट, कपास		
2	तिलहन	सरसों, राई, रागी											
3	दलहन	चना, तुअर, मसूर, मूंगफली											
4	रेशेदार	जूट, कपास											
	विकल्प:	a) 1 & 2 b) 1&4 c) 2&4 d) 3 & 4											
13	गंभीर जल संकट से जूझ रहे एक क्षेत्र में, वर्षा जल संचयन प्रणालियों के कार्यान्वयन से जल उपलब्धता में उल्लेखनीय सुधार हुआ है। यह अभ्यास राष्ट्रीय जल नीति (राष्ट्रीय जल नीति) 2012 के किस सिद्धांत के अनुरूप है? a) एकीकृत जल संसाधन प्रबंधन b) जल एक आर्थिक वस्तु के रूप में c) एकीकृत जल एवं सहभागी दृष्टिकोण d) जल उपयोग की प्राथमिकता		1										
14	निम्नलिखित में से कौन सा जोड़ा गलत तरीके से मारच किया गया है? <table><tr><th>राज्य का नाम</th><th>कोयले की खदान</th></tr><tr><td>a) तेलंगाना</td><td>सिंगरेनी</td></tr><tr><td>b) महाराष्ट्र</td><td>कोरबा</td></tr><tr><td>c) ओडिशा</td><td>तालचेर</td></tr><tr><td>d) पश्चिम बंगाल</td><td>रानीगंज</td></tr></table>		राज्य का नाम	कोयले की खदान	a) तेलंगाना	सिंगरेनी	b) महाराष्ट्र	कोरबा	c) ओडिशा	तालचेर	d) पश्चिम बंगाल	रानीगंज	1
राज्य का नाम	कोयले की खदान												
a) तेलंगाना	सिंगरेनी												
b) महाराष्ट्र	कोरबा												
c) ओडिशा	तालचेर												
d) पश्चिम बंगाल	रानीगंज												
15	नीचे दो कथन दिए गए हैं। ये अभिकथन (A) और कारण (R) हैं। दोनों कथनों को ध्यान से पढ़ें और सही विकल्प चुनें अभिकथन (A): पंजाब, हरियाणा, पश्चिमी उत्तर प्रदेश जैसे कृषि संपन्न राज्य भूमिगत जल की कमी के संकट का सामना कर रहे हैं। कारण (R): सिंचाई के लिए अधिक भूमिगत जल का उपयोग किया जाता है। विकल्प: a) (A) और (R) दोनों सही हैं और (R) (A) का सही कारण है। b) (A) और (R) दोनों सही हैं लेकिन (R) (A) का सही कारण नहीं है। c) (A) सही है और (R) गलत है। d) (A) गलत है और (R) सही है।		1										
16	चंडीगढ़ और मनाली के बीच सड़क निम्नलिखित में से किसके द्वारा बनाई गई थी? a) सीमा सड़क संगठन b) केन्द्रीय लोक निर्माण विभाग c) भारतीय राष्ट्रीय राजमार्ग प्राधिकरण d) राज्य लोक निर्माण विभाग		1										
17	निम्नलिखित पर विचार करें और सूची I को सूची II के साथ मिलाएं और दिए गए कोड की मदद से सही उत्तर चुनें <table><tr><td>सूची I/रेलवेजोन</td><td>सूची II/ मुख्यालय</td></tr><tr><td>I. सेंट्रल</td><td>1. चेन्नई</td></tr></table>		सूची I/रेलवेजोन	सूची II/ मुख्यालय	I. सेंट्रल	1. चेन्नई	1						
सूची I/रेलवेजोन	सूची II/ मुख्यालय												
I. सेंट्रल	1. चेन्नई												

	II. ईस्टर्न		2. मुंबई सीएसटी		
	III. साउदर्न		3. नई दिल्ली		
	IV. नॉर्दर्न		4. कोलकाता		
कोड:					
	I	II	III	IV	
a)	4	1	3	2	
b)	2	4	1	3	
c)	1	3	4	2	
d)	1	2	3	4	
खंड ख					
18	<p>निम्नलिखित केस स्टडी को पढ़ें और प्रश्न संख्या 18.1 से 18.3 का उत्तर दें।</p> <p>बेंदा मध्य भारत के अबूझमाड़ क्षेत्र के जंगलों में रहता है। उसके गाँव में तीन झोपड़ियाँ हैं जो जंगल के बीच हैं। यहाँ तक कि पक्षी और आवारा कुत्ते जिनकी भीड़ प्रायः गाँवों में मिलती है, भी यहाँ दिखाई नहीं देते। छोटी लंगोटी पहने और हाथ में कुल्हाड़ी लिए वह पेंडा (वन) का सर्वेक्षण करता है, जहाँ उसका कबीला कृषि का आदिमरूप-स्थानांतरी कृषि करता है। बेंदा और उसके मित्र वन के छोटे टुकड़ों को जुताई के लिए जलाकर साफ़ करते हैं। राख का उपयोग मृदा को उर्वर बनाने के लिए किया जाता है। अपने चारों ओर खिले हुए महुआ वृक्षों को देखकर बेंदा प्रसन्न है। जैसे ही वह महुआ, पलाश और साल के वृक्षों को देखता है, जिन्होंने बचपन से ही उसे आश्रय दिया है, वह सोचता है कि इस सुंदर ब्रह्मांड का अंग बनकर वह कितना सौभाग्यशाली है। विसर्पी गति सेपेंडा को पार करके बेंदा नदी तक पहुँचता है। जैसे ही वह चुल्लू भर जल लेने के लिए झुकता है, उसे वन की आत्मा लोई-लुगी की प्यास बुझाने की स्वीकृति देने के लिए धन्यवाद करना याद आता है। अपने मित्रों के साथ आगे बढ़ते हुए बेंदा गूदेदार पत्तों और कंदमूल को चबाता है। लड़के वन से गज्जहरा और कुचला का संग्रहण करने का प्रयास कर रहे हैं। ये विशिष्ट पादप हैं जिनका प्रयोग बेंदा और उसके लोग करते हैं। वह आशा करता है कि वन की आत्माएँ दया करेंगी और उसे उन जड़ी बूटियों तक ले जाएँगी। ये आगामी पूर्णिमा को मधाई अथवा जनजातीय मेले में वस्तु विनिमय के लिए आवश्यक है।</p> <p>वह अपने नेत्र बंद करके स्मरण करने का कठिन प्रयत्न करता है, जो उसके बुजुर्गों ने उन जड़ी बूटियों और उनके पाए जाने वाले स्थानों के बारे में समझाया था। वह चाहता है कि काश उसने अधिक ध्यानपूर्वक सुना होता। अचानक पत्तों में खड़खड़ाहट होती है। बेंदा और उसके मित्र जानते हैं कि ये बाहरी लोग हैं जो इन जंगलों में उन्हें ढूँढ़ते हुए आए हैं। एक ही प्रवाही गति से बेंदा और उसके मित्र सघन वृक्षों के वितान के पीछे अदृश्य हो जाते हैं और वनकी आत्मा के साथ एकाकार हो जाते हैं ।</p> <p>18.1 बेंदा निम्नलिखित में से किस प्रकार की कृषि करता है?</p> <p>a) मिश्रित कृषि b) स्थानान्तरी कृषि c) विस्तृत अनाज कृषि d) बागवानी</p> <p>18.2 अनुच्छेद में समाज की स्थिति को निम्नलिखित में से किस शब्द से वर्णित किया जा सकता है?</p> <p>a) नव निश्चयवाद b) पर्यावरणीय निश्चयवाद</p> <p>c) संभावनावाद d) इनमें से कोई नहीं</p> <p>18.3 बेंदा अपने लोगों के उपयोग के लिए इनमें से कौन से वन उत्पाद एकत्र करता है?</p>				3

	(a) पाइन	(b) नारियल	(c) कुचला	(d) अशोक															
19	निम्न तालिका का अध्ययन करें और प्रश्नों के उत्तर दें:				3														
<table><tr><th>मानव विकास का स्तर</th><th>विकास सूचकांक का स्कोर</th><th>देशों की संख्या</th></tr><tr><td>अति उच्च</td><td>उच्च 0.800 से ऊपर</td><td>66</td></tr><tr><td>उच्च</td><td>उच्च 0.700 से 0.799 तक</td><td>53</td></tr><tr><td>मध्यम</td><td>0.550 से 0.699 तक</td><td>37</td></tr><tr><td>निम्न</td><td>0.549 से नीचे</td><td>33</td></tr></table>					मानव विकास का स्तर	विकास सूचकांक का स्कोर	देशों की संख्या	अति उच्च	उच्च 0.800 से ऊपर	66	उच्च	उच्च 0.700 से 0.799 तक	53	मध्यम	0.550 से 0.699 तक	37	निम्न	0.549 से नीचे	33
मानव विकास का स्तर	विकास सूचकांक का स्कोर	देशों की संख्या																	
अति उच्च	उच्च 0.800 से ऊपर	66																	
उच्च	उच्च 0.700 से 0.799 तक	53																	
मध्यम	0.550 से 0.699 तक	37																	
निम्न	0.549 से नीचे	33																	
स्रोत: मानव विकास रिपोर्ट, 2020																			
19.1 उन देशों के लिए मानव विकास सूचकांक का स्कोर पहचानें जिन्हें मध्यम मानव विकास वाला वर्गीकृत किया गया है?																			
19.2 उन देशों में रहने वाले लोगों की कल्याण के बारे में आप क्या निष्कर्ष निकाल सकते हैं जिनमें उच्च मानव विकास स्तर है?																			
19.3 33 देशों में मानव विकास स्तर के न्यूनतम स्कोर होने के कारण बताएं।																			
	खंड ग																		
20	आधुनिक आर्थिक विकास में सेवा क्षेत्र के विकास पर चर्चा कीजिए। अथवा तृतीयक गतिविधियों में उत्पादन और विनिमय दोनों शामिल हैं। इस कथन को समझाइए।				3														
21	दिए गए मानचित्र का अवलोकन कीजिए और निम्नलिखित प्रश्नों के उत्तर दीजिए:				3														
21.1 रेलवे लाइन का नाम बताइए और उस देश का नाम बताइए जहाँ यह स्थित है?																			

	<p>21.2 ब्लादिवोस्तोक इस रेलवे लाइन के _____ तट पर स्थित है।</p> <p>21.3 एशिया में यह सबसे महत्वपूर्ण मार्ग क्यों है, इसका एक कारण बताइए?</p>	
22	‘भारत की भौतिक विशेषताएँ और भारत की जनसंख्या का वितरण साथ-साथ चलते हैं’। इस कथन का विश्लेषण करें।	3
23	"विश्लेषण कीजिए कि भौतिक, सांस्कृतिक, आर्थिक और ऐतिहासिक कारक भारत में विभिन्न प्रकार की ग्रामीण बस्तियों के निर्माण को किस प्रकार प्रभावित करते हैं।"	3
	खंड घ	
24	<p>संग्रहण और शिकार जनजातीय समाजों के निर्वाह के लिए आदिम आर्थिक गतिविधियाँ थीं, लेकिन आधुनिक समय में संग्रहण बाजारोन्मुख हो गया है और व्यावसायिक हो गया है।" इस कथन का परीक्षण कीजिए?</p> <p>अथवा</p> <p>चलवासी पशुचारण की अपेक्षा वाणिज्यिक पशुधन पालन अधिक व्यवस्थित और पूँजी-प्रधान है। इसे उपयुक्त तर्कों के साथ स्पष्ट करें।</p>	5
25	“एक देश आधुनिक विनिर्माण के माध्यम से अपनी अर्थव्यवस्था को बढ़ावा देना चाहता है” आधुनिक बड़े पैमाने पर विनिर्माण की विशेषताओं के प्रकाश में इस कथन की व्याख्या करें।	5
26	<p>विकास एक बहुआयामी अवधारणा है और अर्थव्यवस्था और पर्यावरण में सकारात्मक अपरिवर्तनीय परिवर्तन को दर्शाता है। भारत से उपयुक्त तर्क द्वारा इस कथन का समर्थन कीजिए।</p> <p>अथवा</p> <p>दीर्घ अवधि में गहन सिंचाई, इंदिरा गांधी नहर कमांड इलाके में कृषि की स्थिरता को नकारात्मक रूप से प्रभावित करती है। समस्याओं को दूर करने के लिए कुछ उपाय सुझाएँ। (कोई 5)</p>	5
27	मानव निर्मित प्रक्रियाओं के कारण भूमि क्षरण प्राकृतिक प्रक्रियाओं की तुलना में अधिक गंभीर है। उदाहरण देकर इस कथन का मूल्यांकन कीजिए।	5
28	<p>भारत में राष्ट्रीय राजमार्ग विकास परियोजना ने सड़कों की स्थिति सुधारने में किस प्रकार योगदान दिया है?</p> <p>अथवा</p> <p>भारत के अंतरराष्ट्रीय व्यापार में आयात संरचना में आये बदलाव का सविस्तार व्याख्या करें।</p>	5
	खंड ड	
29	<p>दिए गए विश्व मानचित्र पर, निम्नलिखित सात विशेषताएँ दिखाई गई हैं। इनमें से किसी भी पाँच विशेषताओं की पहचान कीजिए और उनके सही नाम लिखिए। ...</p> <p>a) यूरोप में सुदूर उत्तर में स्थित एक अंतरराष्ट्रीय समुद्री बंदरगाह।</p> <p>b) आहार संग्रहण का एक क्षेत्र।</p> <p>c) एशिया का एक प्रमुख हवाई अड्डा।</p> <p>d) एक नहर जो दो समुद्रों को जोड़ती है।</p> <p>e) ट्रांस-कनाडियन रेलवे का टर्मिनल स्टेशन।</p> <p>f) व्यापक व्यावसायिक अनाज खेती का एक क्षेत्र।</p> <p>g) व्यावसायिक पशु पालन का एक क्षेत्र।</p>	5

30	<p>दिए गए भारत के भौतिक मानचित्र में, निम्नलिखित में से किसी भी 5 को उपयुक्त प्रतीकों के साथ चिह्नित करें और नाम लिखें।</p> <ol style="list-style-type: none"> सबसे अधिक जनसंख्या घनत्व वाला भारतीय राज्य चाय का सबसे बड़ा उत्पादक बिहार का एक तेल शोधन कारखाना पंजाब का एक अंतरराष्ट्रीय हवाई अड्डा झारखंड की एक प्रसिद्ध कोयला खदान पश्चिमी तट का सबसे व्यस्त समुद्री बंदरगाह सबसे पुराना तांबे की खदान 	5
	दृष्टिबाधितों के लिए	
29	<p>निम्नलिखित प्रश्न केवल दृष्टिबाधित अभ्यर्थियों के लिए प्रश्न संख्या 29 के स्थान पर हैं। निम्नलिखित में से किन्हीं पाँच प्रश्नों के उत्तर दीजिए।</p> <ol style="list-style-type: none"> यूरोप का सबसे उत्तरी समुद्री बंदरगाह उत्तरी अमेरिका का प्रमुख भोजन संग्रहण क्षेत्र महाराष्ट्र में स्थित एक हवाई अड्डा लाल सागर और भूमध्य सागर को जोड़ने वाला एक नहर प्रशांत तट पर ट्रांस कैनेडियन रेलवे का एक टर्मिनल स्टेशन अफ्रीका में व्यावसायिक अनाज खेती का क्षेत्र विश्व के सबसे छोटे महाद्वीप में व्यावसायिक पशुपालन का क्षेत्र 	
30	<p>निम्नलिखित प्रश्न केवल दृष्टिबाधित अभ्यर्थियों के लिए प्रश्न संख्या 30 के स्थान पर हैं। निम्नलिखित में से किन्हीं पाँच प्रश्नों के उत्तर दीजिए।</p> <ol style="list-style-type: none"> सबसे अधिक जनसंख्या घनत्व वाले राज्य का नाम लिखें। चाय का सबसे बड़ा उत्पादक राज्य का नाम लिखें। बिहार में स्थित तेल शोधन स्थल का नाम लिखें। पंजाब में अंतरराष्ट्रीय हवाई अड्डे का नाम लिखें। झारखंड का प्रसिद्ध सबसे बड़ा कोयला खदान का नाम लिखें। पश्चिमी तट का सबसे व्यस्त समुद्री बंदरगाह का नाम लिखें। सबसे पुराना तांबे का खदान का नाम लिखें। 	



प्रश्न सं. 30 के लिए मानचित्र
Map for Q. No. 30

